

密

封

线

内

不

准

答

题

2019~2020 学年度第一学期

# 一年级数学科期中测试卷 (A)

内容包括: 至第一册练习十三

题次	一	二	三	四	五	六	评分
评分							

## 一、写一写, 比一比。(10分)



把上面各数按从大到小的顺序排列:

( ) > ( ) > ( ) > ( ) > ( )

## 二、填空。(每空1分, 共36分)

- 1、与7相邻的两个数是( )和( )。
- 2、5和7中间的数是( )。
- 3、6后面的第4个数是( ), 6前面的第4个数是( )。
- 4、比5大而比10小的数有( )个。
- 5、至少( )个同样的小正方体才能拼成一个大正方体。

6、

0	2			8	
---	---	--	--	---	--

10		8			5	4	
----	--	---	--	--	---	---	--

## 7、在( )填上合适的数。

$$4 + ( ) = 8 \quad ( ) - 6 = 4 \quad ( ) + 7 = 7$$

$$2 + ( ) = 9 \quad 10 - ( ) = 8 \quad ( ) - 3 = 5$$

## 8、在○里填上“+”或“-”。

$$4 \bigcirc 4 = 0$$

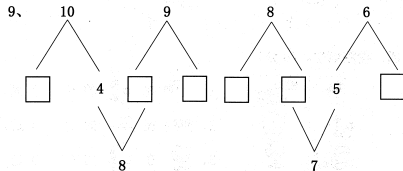
$$10 \bigcirc 8 = 2$$

$$0 \bigcirc 3 = 3$$

$$5 \bigcirc 4 = 9$$

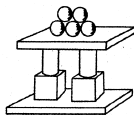
$$3 \bigcirc 7 = 10$$

$$8 \bigcirc 6 = 2$$



- (1) 上图中一共有( )只小动物。
- (2) 从左数, 小象排在第( ), 从右数, 恐龙排在第( )。
- (3) 圈出最右边的3只小动物。

### 三、数一数，填一填。(12分)



( ) 个

( ) 个

( ) 个

( ) 个

下图中各有几个小正方体?




( ) 个



( ) 个

### 四、看图填空。(8分)



1、 在 的 ( ) 面。

2、 在 的 ( ) 边。

3、 在 的 ( ) 边。

4、 在 的 ( ) 面。

### 五、计算。(12+10=22分)

#### 1、口算。

$10+10=$

$5+5=$

$9-3=$

$2+7=$

$3+4=$

$2+6=$

$10-2=$

$8-0=$


$6-3=$

$8-2=$

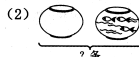
$6+4=$

$10-3=$


### 2、看图列式计算。



$\square \bigcirc \square = \square \text{ (只)}$



$\square \bigcirc \square = \square \text{ (条)}$



$\square + \square = \square$

$\square - \square = \square$

$\square + \square = \square$

$\square - \square = \square$

### 六、解决问题。(12分)

1、8只



草丛里有 ( ) 只小兔，又跑来了 ( ) 只，一共有 ( ) 只。

$\square \bigcirc \square = \square \text{ (只)}$

2、



7只

一共有  $\square$  只狗，跑出来  $\square$  只，房子里还有  $\square$  只狗。

$\square \bigcirc \square = \square \text{ (只)}$